

Доберіть до функції (1–3) ескіз її графіка (А–Д).

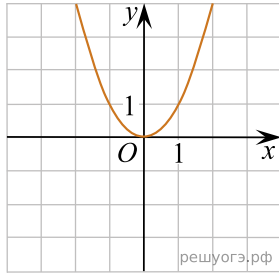
Функція

1. $y = x^2$

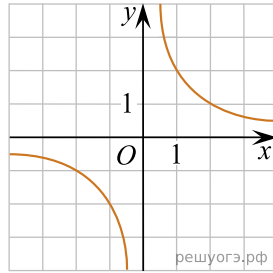
2. $y = \frac{x}{2}$

3. $y = \frac{2}{x}$

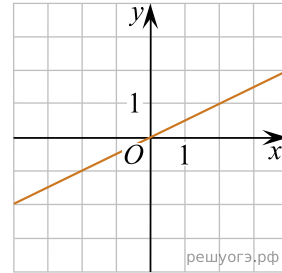
Ескіз графіка функції



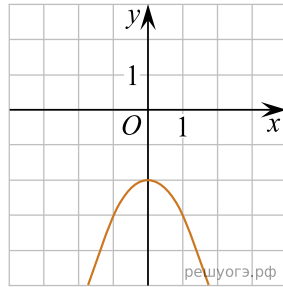
А



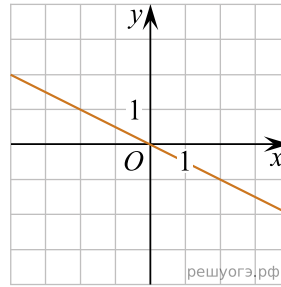
Б



В



Г



Д

А
Б
В
Г
Д

1

2

3