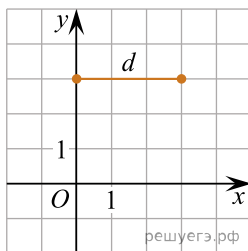


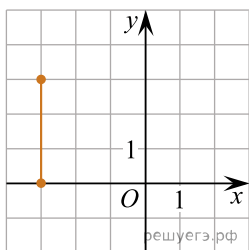
На рисунку зображено відрізок  $d$  на координатній площині. Установіть відповідність між відрізком (1–3) та рисунком (А–Д), на якому він зображений.



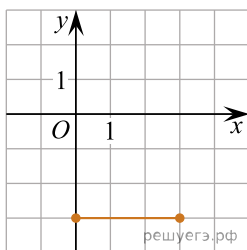
Відрізок

1. Відрізок, симетричний відрізку  $d$  відносно осі  $x$
2. Відрізок, симетричний відрізку  $d$  відносно осі  $y$
3. Відрізок, симетричний відрізку  $d$  відносно точки  $O$

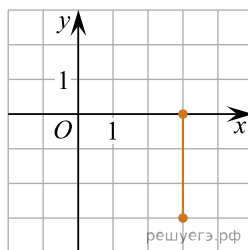
Малюнок



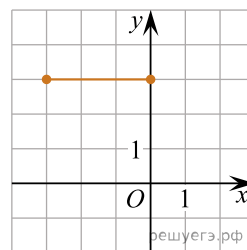
А



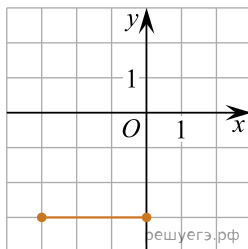
Б



В



Г



Д

- А  
Б  
В  
Г  
Д

- 1  
○ ○ ○ ○ ○  
2  
○ ○ ○ ○ ○  
3  
○ ○ ○ ○ ○