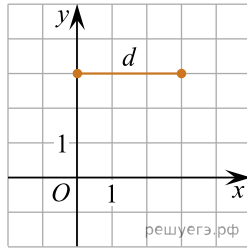


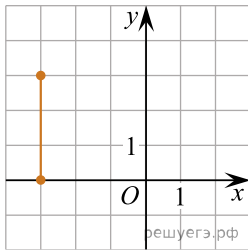
На рисунку зображено відрізок d на координатній площині. Установіть відповідність між відрізком (1–3) та рисунком (А–Д), на якому він зображений.



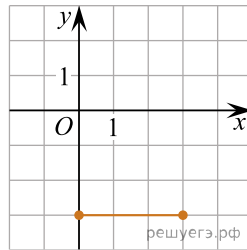
Відрізок

1. Відрізок, симетричний відрізку d відносно осі x
2. Відрізок, симетричний відрізку d відносно осі y
3. Відрізок, симетричний відрізку d відносно точки O

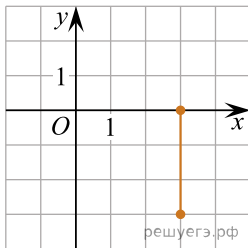
Малюнок



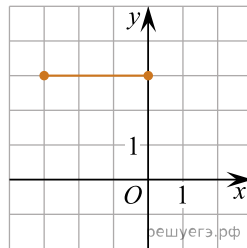
А



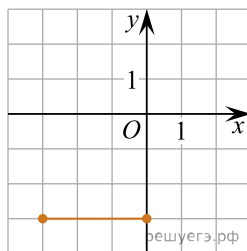
Б



В



Г



Д

- А
Б
В
Г
Д

1

2

3

